

Tarea Nº 1

Realiza estas dos actividades:

1. Completa el mapa de las provincias de España. Para ello, puedes usar un atlas o la siguiente página donde hay un mapa político de España:

<http://www.gifex.com/fullsize/2009-12-02-11305/Provincias-de-Espana.html>



Tarea Nº 1

2. Enumera las provincias que pertenecen a cada Comunidad Autónoma:

<b>Comunidad Autónoma</b>	<b>Provincias</b>
<b>ANDALUCIA</b>	
<b>ARAGON</b>	
<b>P. ASTURIAS</b>	
<b>BALEARES</b>	
<b>CANARIAS</b>	
<b>CANTABRIA</b>	
<b>CASTILLA-LA MANCHA</b>	
<b>CASTILLA Y LEÓN</b>	
<b>CATALUÑA</b>	
<b>C. VALENCIANA</b>	
<b>EXTREMADURA</b>	
<b>GALICIA</b>	
<b>LA RIOJA</b>	
<b>C. MADRID</b>	
<b>R. MURCIA</b>	
<b>NAVARRA</b>	
<b>PAIS VASCO</b>	

**Tarea Nº 2**

**Realiza estos cinco ejercicios:**

**1. Haz una lista con los factores que influyen en la distribución de la población.**

**2. Define:**

- **Densidad de población:**
  
- **Tasa de natalidad:**
  
- **Tasa de fecundidad:**
  
- **Tasa de mortalidad:**
  
- **Tasa de mortalidad infantil:**
  
- **Esperanza de vida:**
  
- **Tasa de crecimiento natural:**

**3. Explica cómo estos factores favorecen la natalidad o la frena:**

	<b>Favorecen</b>	<b>Frenan</b>
<b>Económicos</b>		
<b>Religiosos</b>		
<b>Políticos</b>		
<b>Demográficos</b>		
<b>Socioculturales</b>		

**4. Ordena, según tu criterio, los factores –del más importante al menos importante- que hacen que la gente migre hoy en día, y propón soluciones para alguno de ellos y así evitar que la gente tuviera que migrar.**

Tarea Nº 2

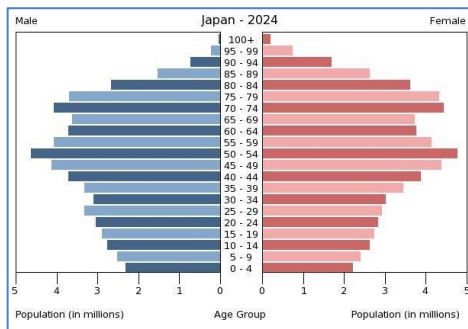
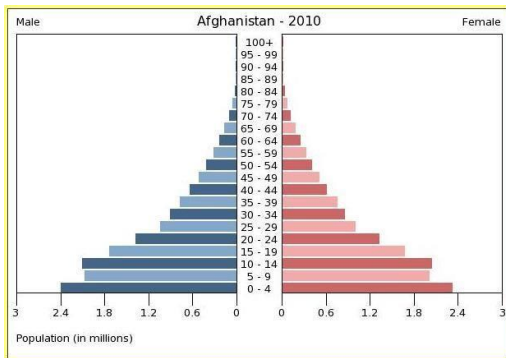
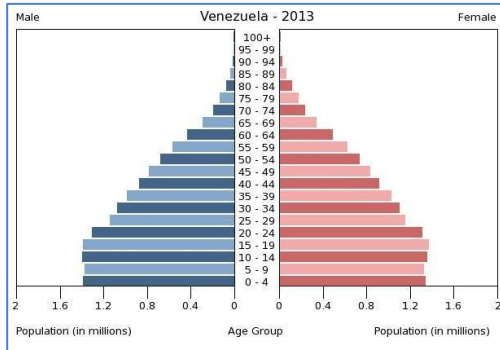
5. Organiza las consecuencias de los movimientos migratorios en una tabla como ésta. Puedes añadir alguna consecuencia más si se te ocurre.

	Países receptores de población	Países emisores de población
Consecuencias positivas		
Consecuencias negativas		

**MÓDULO 2 - Ámbito Social. PARTE 6. TEMA 8. Geografía Humana. Geografía de la Población.**

**Tarea Nº 3**

Identifica cada una de estas tres pirámides de población con un país subdesarrollado, un país en vías de desarrollo y un país desarrollado, diciendo qué tipo de pirámide es.



Tarea Nº 1

Realiza estas cinco actividades:

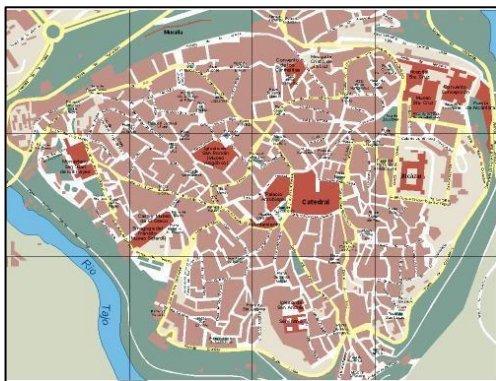
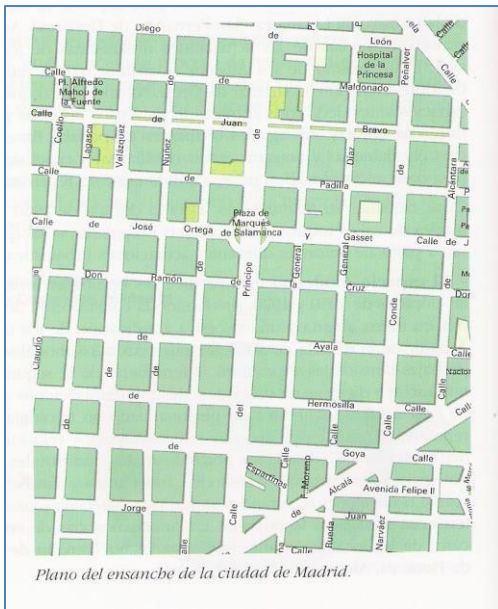
1. Haz una definición de ciudad reuniendo en esta definición el criterio cuantitativo poblacional, el criterio morfológico, el criterio funcional y el criterio de dependencia.

2. ¿Qué tipo de funciones predominan en las siguientes ciudades?

- *Santiago de Compostela*
- *Madrid*
- *Cuenca*
- *Huelva*
- *Salamanca*
- *Algeciras*
- *Benidorm*
- *Toledo*

Tarea Nº 1

3. Identifica estos tipos de plano y úsalos como ejemplo para decir las características de cada tipo:



**Tarea Nº 1**

**4. ¿Qué es el CBD? ¿Qué actividades se desarrollan en ese espacio urbano?**

**5. ¿Qué es el ensanche? ¿Cuándo aparecen?**



Tarea Nº 2

Realiza estas tres actividades:

1. Di a qué grupo de la jerarquía española pertenecen las siguientes ciudades:

- *Albacete*
- *Madrid*
- *Sevilla*
- *Zaragoza*
- *Alicante*
- *Málaga*
- *Hellín*
- *Valladolid*
- *Tomelloso*
- *León*

**Tarea Nº 3**

**2. Define área metropolitana, conurbación y megalópolis.**

**3. Indica las diferencias entre las ciudades de los países desarrollados y las de los países subdesarrollados.**