

BLOQUE 11: TAREAS

INSTRUCCIONES: CONTESTA EN EL ESPACIO QUE TIENES ASIGNADO DEBAJO DE CADA CUESTIÓN. SI NECESITAS AMPLIAR TU RESPUESTA, USA UN FOLIO AL FINAL O EL REVERSO DE LA HOJA DE LAS TAREAS ESPECIFICANDO BIEN CLARO EL NÚMERO DE TAREA A LA QUE ESTÁS RESPONDIENDO Y GRÁPALO, EN SU CASO, AL CONJUNTO.

TEMA 4: HACIA UN ORDEN INTERNACIONAL JUSTO

LA GUERRA FRÍA

1. Explica a qué llamamos guerra fría y qué fue el equilibrio del terror, qué bloques formaban esta guerra y cuáles eran los países líderes y qué etapas se dieron

2. Explica qué fueron la Doctrina Truman y el Plan Marshall

3. Explica por qué se produce la crisis de Berlín de 1948 y cómo se solucionó

4. Define:

OTAN:

COMECON:

Pacto de Varsovia:

Coexistencia pacífica:

5. Sitúa en un mapa la península de Corea y explica brevemente la guerra de Corea (1950-53)

Explicación

Mapa

6. Explica por qué se construyó el muro de Berlín tras 1961

7. Explica en qué consistió la crisis de los misiles de 1968

22. Sobre este mapa de Europa de la posguerra, responde:



22.1 ¿Qué cambios territoriales comportó la Segunda Guerra Mundial (anexiones, extensiones y zonas ocupadas)?

22.2. ¿Qué significa el símbolo de la hoz y el martillo?

22.3 ¿En qué dos bloques quedó dividida Europa?

22.4 Enumera las consecuencias de la guerra

EL PROCESO DE DESCOLONIZACIÓN

23. Define:


- a. DESCOLONIZACIÓN:

- b. CONFERENCIA DE BANDUNG:

- c. APARTHEID:

- d. NEOCOLONIALISMO:


24. Ordena las causas de la descolonización de la más importante a la menos importante según tu criterio.



25. Di en qué fase de la descolonización se independizaron los siguientes países:

- a. Zimbabue:
- b. India:
- c. Marruecos:
- d. Angola:
- e. Birmania:
- f. Kenia:
- g. Laos:
- h. Namibia:
- i. Siria:

26. Analiza críticamente las consecuencias de la descolonización viendo si el proceso podría haber tenido otras consecuencias mejores.



LA CAÍDA DEL MUNDO SOCIALISTA

27. Di lo que hicieron los siguientes líderes soviéticos para suavizar la soviétización de la URSS:

a. KRUCHEV:

b. BREZNEV:

c. ANDROPOV:

d. CHERNENKO:

28. Analiza los pasos que se sucedieron hasta acabar con la desaparición de la URSS explicando los siguientes epígrafes:

- PERESTROIKA:

- GLASNOST:

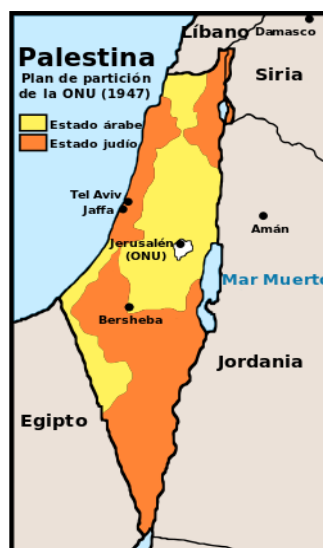
- POLÍTICA EXTERIOR DE GORBACHOV:

- FORMACIÓN DE LA CEI:

- BORIS YELTSIN:

HACIA EL MUNDO ACTUAL

29. El mapa de la izquierda muestra los asentamientos judíos en Palestina durante el mandato británico antes de la independencia y el de la derecha el Plan de Partición propuesto por la ONU.



¿Por qué los árabes no estaban de acuerdo con la partición?

¿Qué razones puso la ONU para ello?

30. Explica brevemente las causas de la crisis de 1973.

31. Explica brevemente las consecuencias de la crisis de 1973 sobre el estado del bienestar

32. Explica brevemente qué es la globalización

33. Explica las consecuencias positivas y negativas que tiene la globalización

34. ¿En qué consiste el feminismo?

35. ¿Cuántas “oleadas” feministas hay? ¿Qué diferencia la primera de la segunda oleada?

TEMA 5: EL PROCESO DE CONSTRUCCIÓN EUROPEA

36. ¿Cuáles fueron los países fundadores de la actual Unión Europea? ¿Cómo se llamaron las organizaciones que crearon y en qué años las crearon?

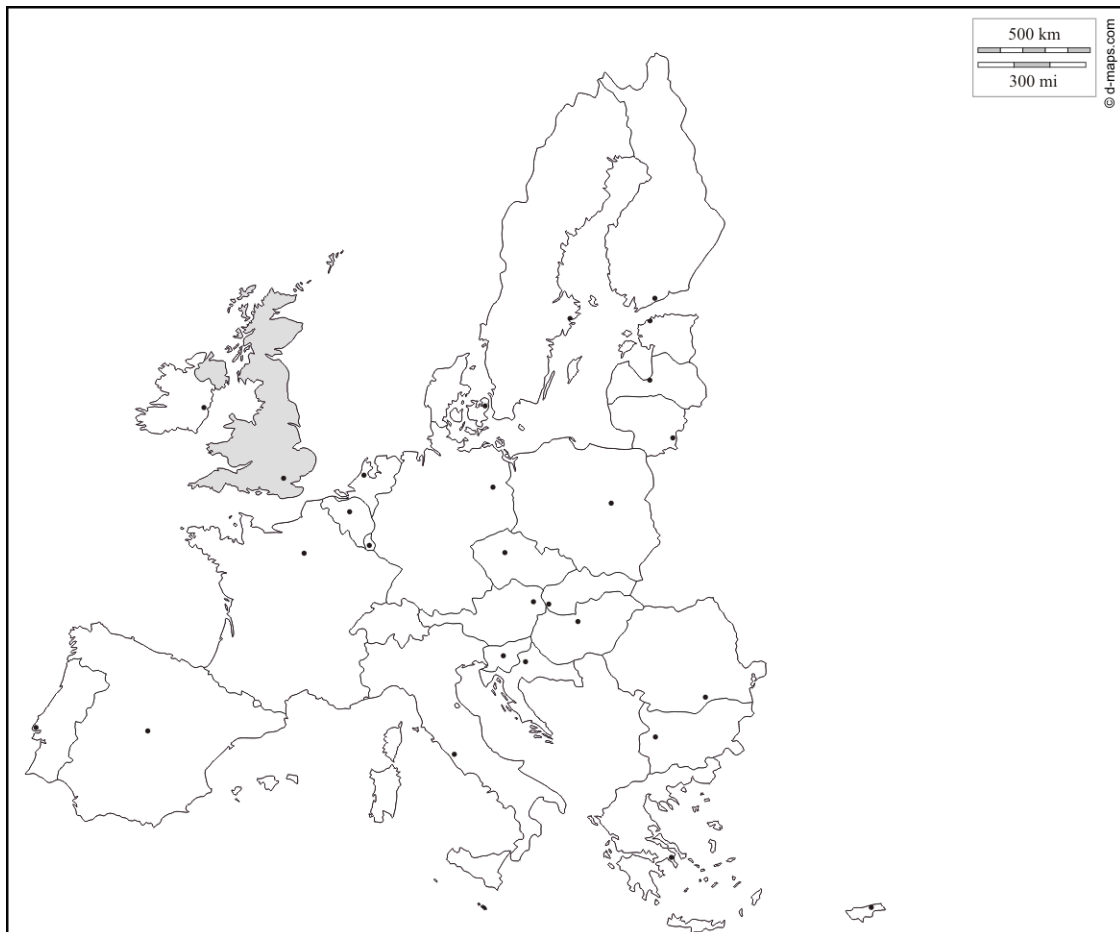
37. En un folio aparte, realiza un eje cronológico del proceso de construcción europea donde se señalen las distintas ampliaciones de países y los Tratados internacionales

38. Rellena el siguiente cuadro con las principales instituciones europeas

Instituciones europeas		
Institución	Composición	Funciones
Consejo de Europa		

Consejo de Ministros		
Comisión		
Parlamento europeo		
Tribunal de Justicia		

39. Localiza en el mapa de Europa los países de la UE indicando el año de incorporación de cada uno:



TEMA 6: LA ACTIVIDAD ECONÓMICA EN UN MUNDO GLOBALIZADO

40. Define los siguientes conceptos:

GLOBALIZACIÓN:

ESTADO DEL BIENESTAR:

IMPUESTOS DIRECTOS:

IRPF:

IVA:

41. HAZ UNA REFLEXIÓN SOBRE LA NECESIDAD DE PAGAR IMPUESTOS EN LA SOCIEDAD ACTUAL